

# BALADES LUDIQUES POUR PETITS ET GRANDS

Séderon



© H.Van Mons



Visiter,  
se balader,  
s'amuser!



Office de Tourisme des Baronnies en Drôme Provençale  
Bureau de Séderon  
2 rue de la Bourgade  
26560 Séderon  
Tél. 04.75.28.55.00  
[www.baronnies-drome-provencale.com](http://www.baronnies-drome-provencale.com)  
[ot@sederonenbaronnies.fr](mailto:ot@sederonenbaronnies.fr)

Moyen



2,8 km

1h 45

# Séderon

**Départ:** Office de Tourisme**GPS:** 44.205214N / 5.537347E

Chef-lieu de canton que la Méouge divise en deux parties, Séderon est entouré par une ceinture de rochers élevés. Surmonté de 3 cols, ce joli petit village est au cœur d'un territoire mi-provençal, mi-alpin, d'où la richesse de sa faune et de sa flore. On y rencontre autant d'espèces alpines que d'espèces typiquement provençales (la lavande côtoie l'ancolie des Alpes). Son altitude de 812 mètres lui vaut de posséder un climat excellent pour les asthmatiques. Son implantation stratégique entre Provence et Dauphiné en a fait un lieu clé dans l'histoire. Un château est construit en haut du rocher pour contrôler le passage (il n'en reste plus rien actuellement). À partir du XIII<sup>e</sup> siècle, Séderon devient

une enclave dauphinoise au milieu de la Provence (à tel point qu'un habitant de Séderon pouvait avoir sa maison dans le Dauphiné et son jardin en Provence).

Au XVII<sup>e</sup> siècle le village jusqu'alors perché, descend le long de la Méouge. La peste de 1720 ne l'épargnera pas: situé au nord de la ligne du Jabron, il devient un élément du cordon sanitaire allant de Bollène à Embrun et isolant la Provence du Dauphiné.

Lors de la Seconde Guerre mondiale, la région abrite plusieurs maquis et devient un haut lieu de la Résistance. Le 10 août 1944, la Luftwaffe bombarde le village, tuant sept personnes et en blessant gravement cinq.

## Carnet de route

*Soyez vigilants avec vos enfants notamment sur les zones non piétonnes. Le parcours s'effectue sous votre entière responsabilité. L'Office de Tourisme et la société Randoland déclinent toute responsabilité en cas d'accident.*

Commencer la balade de l'Office de Tourisme, rue de la Bourgade.

En sortant de l'Office, prendre à droite et inspecter la première porte sur la droite ①.

Faire demi-tour et se rendre sur la place de l'Église près du Monument aux morts ②. **Attention à la circulation!**

Prendre à gauche, la Grande Rue. Tourner à droite dans le passage de l'Androne. Tourner à gauche dans la rue de la Rosière et continuer jusqu'à la place du Grand Lavoir ③.

Revenir à gauche par la Grande Rue et s'arrêter place Reynaud Lacroze. Remarquer l'enseigne peinte du

commerce ④.

**Traverser prudemment** pour prendre en face la Basse Rue. Continuer jusqu'à la place de la Fontaine ⑤.

Faire demi-tour pour emprunter la Traverse des jardins sur votre gauche. Traverser la Méouge sur le pont puis rejoindre l'allée du 18 août 1944. Tourner à gauche puis s'arrêter devant la croix ⑥.

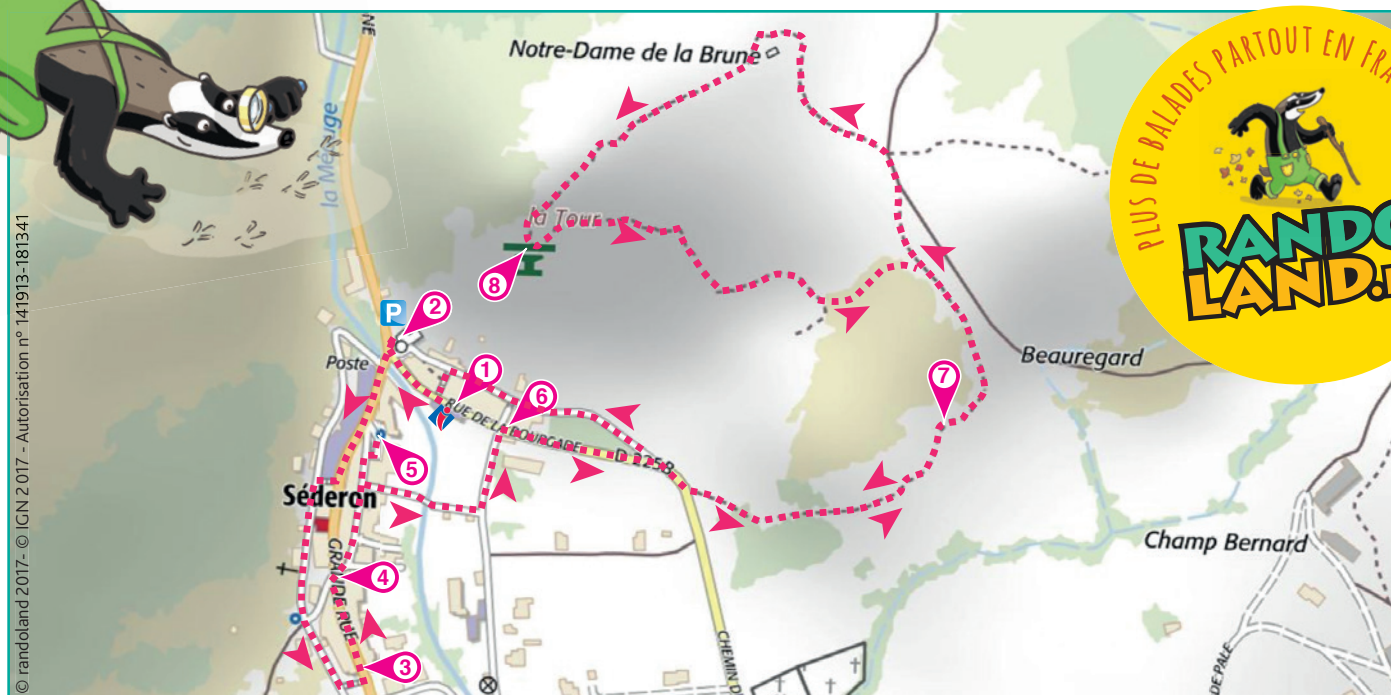

Tourner à droite et continuer jusqu'aux poteaux de balisage des chemins de randonnée. Suivre le chemin pédagogique et observer les panneaux de céramique réalisés par les enfants ⑦. Continuer jusqu'à la plaque en

céramique représentant le fusain. Pour les plus jeunes et les moins courageux, faire demi-tour pour rejoindre l'Office de Tourisme. Prendre connaissance de la réponse à l'indice 8 au bas de cette page, sous la carte.

Pour les autres, poursuivre le chemin jusqu'aux ruines de la tour de Notre Dame la Brune. Continuer jusqu'au sommet et profiter du panorama et des indications de la table d'orientation ⑧.

Suivre le balisage jaune sur les pierres pour rejoindre le sentier pédagogique emprunté à l'aller.

Retour à l'Office de Tourisme.








### 1 La porte, près de l'Office

Quelle croix peux-tu reconnaître au-dessus de la porte ?

Tu vas découvrir la première étape de l'Inspecteur Rando.




### 2 Le monument aux morts

Quelle médaille correspond au motif gravé sur le monument aux morts ?



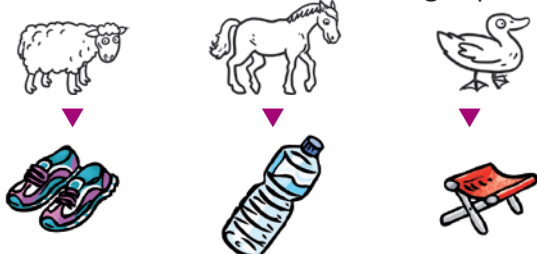
### 3 Le lavoir

Quel dessin correspond au lavoir vu de dessus ?



### 4 L'enseigne

Quel animal reconnais-tu sur l'enseigne peinte ?




### 5 La fontaine

Quel timbre représente le même personnage que celui représenté sur la fontaine ?




### 6 La croix

Quel outil est visible au pied de la croix ? Fais-toi porter si tu es trop petit !



### 7 Les plaques en céramique

Quelle plaque a été modifiée ?



### 8 La table d'orientation

Quel nuage de chiffres te permet de reconstituer l'altitude du Col Pointu ?





## ÉNIGME

L'empire d'une famille illustre s'est étendu sur toute la Grande Baronnie entre le X<sup>e</sup> et le XI<sup>e</sup> siècle. Il a atteint la taille d'une province délimitée au sud par le Ventoux, le plateau d'Albion et la montagne de Lure, à l'ouest par la plaine du Rhône, à l'est par le Buëch et au nord approximativement par le Diois. Les villes et villages actuels tels que Montbrun les Bains, Reilhannette, Buis-les-Baronnies, Séderon ou encore Nyons faisaient partie de la Grande Baronnie.

Mais de quelle famille s'agissait-il ?

Pars vite, avec l'Inspecteur Rando, à la recherche des indices qui te permettront de retrouver son nom.



Tu disposes du plan ci-dessous.

À l'emplacement des pastilles numérotées, lis les indications qui te permettront de résoudre l'énigme principale.

À la fin de ta balade, rends-toi à l'Office de Tourisme ou sur le site [randoland.fr](http://randoland.fr) pour vérifier ta réponse.







# Séderon

## ÉNIGME

« Le pays de Séderon » avec sa nature préservée est véritablement un lieu privilégié pour vos moments de loisirs et de détente. Cette région allie la beauté des paysages à un climat sain : journées belles et chaudes, nuits fraîches pour un sommeil réparateur. Avec ses collines embaumées de lavande, ses montagnes recouvertes de forêts, ses nombreux cols et ses chemins pittoresques, "le pays de Séderon" offre un terrain idéal aux randonneurs et un site exceptionnel pour la pratique du parapente. En 2016, une compétition internationale organisée par le club de parapente s'est déroulée sur le secteur. Parviendras-tu à trouver le nom du vainqueur parmi la liste des participants ?



© AdobeStock

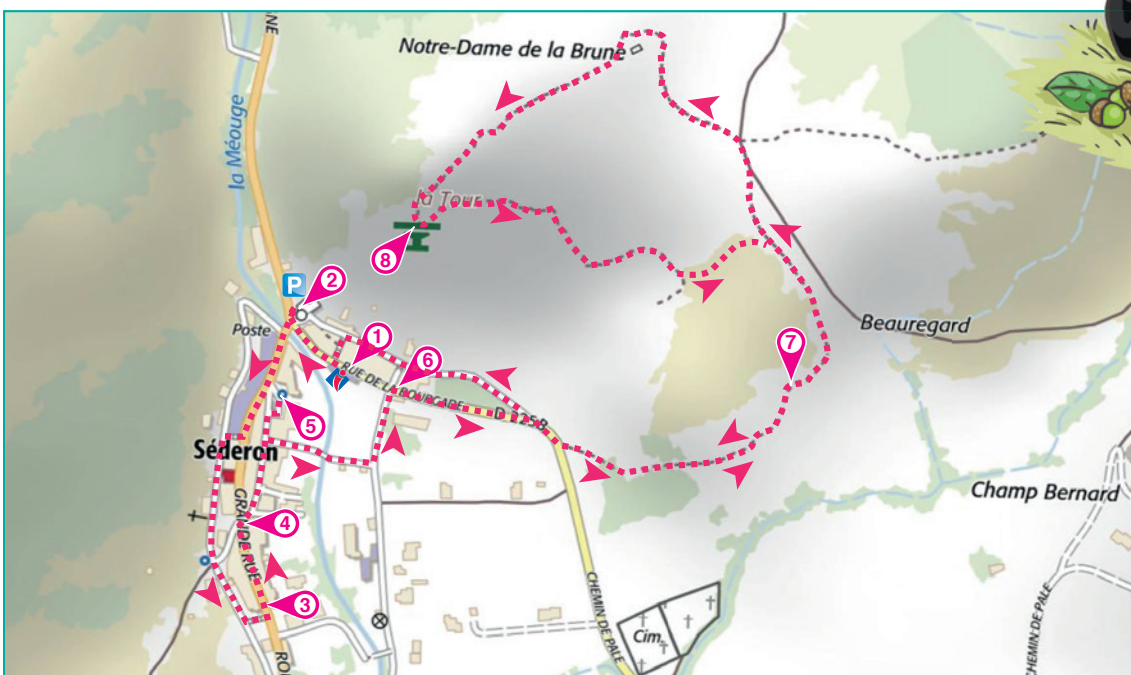
## LES PARTICIPANTS

- ▶ **Cara Melmou** - Née le 31 décembre 1990 à Sofia (Bulgarie)
- ▶ **Gérard Manvussa** - Né le 9 janvier 1989 à Marseille (France)
- ▶ **Jan Darmery** - Né le 30 janvier 1987 à Hambourg (Allemagne)
- ▶ **Kelly Diotte** - Née le 22 janvier 1992 à Lille (France)
- ▶ **Marc Assain** - Né le 27 février 2000 à Paris (France)
- ▶ **Marie Aubain** - Née le 15 mai 1998 à Die (France)
- ▶ **Paul Ice** - Né le 24 mars 1995 à Colmar (France)
- ▶ **Sacha Touille** - Née le 12 mars 1995 à Rome (Italie) (France)
- ▶ **Thérèse Ponsable** - Née le 5 juin 1991 à Montbrun-les-Bains (France)

Tu disposes du plan ci-dessous.

À l'emplacement des pastilles numérotées, lis les indications qui te permettront de résoudre l'énigme principale.

À la fin de ta balade, rends-toi à l'Office de Tourisme ou sur le site [randoland.fr](http://randoland.fr) pour vérifier ta réponse.





Lors du passage devant chacun des indices lis attentivement les indications fournies. Elles te permettront de résoudre l'énigme posée au verso de cette page.

### 1 La porte, près de l'Office

Observe le linteau de porte sculpté.

Une date y est gravée.

Un des participants est né un jour multiple du chiffre des centaines de cette date. Ce n'est pas le vainqueur de la compétition, tu peux le rayer de la liste.

### 2 Le monument aux morts


Une plaque rend hommage aux victimes du bombardement aérien du 10 août 1944.

Un des parapentistes porte le même prénom qu'une des victimes... mais ce n'est toujours pas le gagnant !

### 3 Le lavoir

Calcule approximativement l'aire des bassins du lavoir en m<sup>2</sup>.

Dans quel train peux-tu placer logiquement ta réponse ?



Le vainqueur est né au cours de la saison inscrite sur le train où tu as pu inscrire ta réponse.

### 4 L'enseigne

Sachant que les voyelles valent + 5 et les consonnes - 3, calcule la valeur du nom du premier mot inscrit sur l'enseigne. Tu vas découvrir le numéro d'un mois.

Un personnage est né au cours de ce mois, mais raye-le de ta liste car il n'a terminé que 3<sup>e</sup>.

Ex. : TOI → - 3 + 5 + 5 = 7 (juillet)



### 5 La fontaine

Observe le personnage sur la fontaine. Il est semblable à celui figurant sur un de ces timbres.



Calvin



Simone Weil



Marianne

Le nom de la ville de naissance du concurrent qui a terminé second comporte le même nombre de lettres que le nom du personnage représenté sur la fontaine.

### 6 La croix

Une date est inscrite sur le socle de la croix.

Additionne tous les chiffres qui la composent.

Le jour de naissance du vainqueur est supérieur au nombre que tu viens de trouver.

### 7 Les plaques en céramique

Le nom de la plante représentée ci-dessous rime avec le nom du concurrent qui a terminé dernier !

Tu peux donc le supprimer de ta liste !



### 8 La table d'orientation

Recherche sur la table d'orientation le nom de la montagne la plus élevée.

On retrouve toutes les lettres du nom de cette montagne dans le pays d'où provient le gagnant.

Circuit n° 2634001G

Tu devrais avoir retrouvé le nom du vainqueur de la compétition

Ta réponse: .....