

BALADES LUDIQUES POUR PETITS ET GRANDS

Rémuzat



© H.Van Mons



Visiter,
se balader,
s'amuser!



Office de Tourisme des Baronnies en Drôme Provençale
Bureau de Rémuzat
Place du Champ de Mars
26510 Rémuzat
Tél. 04 75 27 85 71
www.baronnies-drome-provencale.com
ot.remuzat@orange.fr

Facile



1,4 km

1h

Rémuzat

Départ: Office de Tourisme

GPS: 44.414420N / 5.356471E

Le ciel d'un bleu limpide, l'ensoleillement important toute l'année, les parfums d'une nature sauvage ou cultivée, c'est Les Baronnies Provençales qui vous accueillent. Le Pays de Rémuzat vous invite à découvrir une région inoubliable: paysages sauvages et authentiques, faune et flore exceptionnelles, patrimoine chargé d'histoire, produits savoureux, terres d'activités sportives à sensations fortes... De quoi ravir petits et grands en toute saison.

Rémuzat c'est toute la Provence, ou les Alpes s'invitent. Prenez le temps de vous poser dans ce village de la Drôme provençale aux maisons de pierres et aux tuiles d'argile. Levez les yeux quelques instants pour admirer le spectacle que les vautours nous offrent au quotidien. Ces oiseaux qui vous invitent à les rejoindre sur les sommets en empruntant les sentiers de randonnées dans un milieu authentique et sauvage.

Carnet de route

Soyez vigilants avec vos enfants notamment sur les zones non piétonnes. Le parcours s'effectue sous votre entière responsabilité. L'Office de Tourisme et la société Randoland déclinent toute responsabilité en cas d'accident.

Sortir de l'Office de Tourisme et observer la façade avec la représentation des oiseaux **1**.

Se diriger vers la rivière l'Oule. **Traverser purement la route départementale.** Traverser le pont sur l'Oule. Prendre en face, légèrement à gauche, le chemin en direction de la chapelle St-Michel. Dans la montée, s'arrêter au niveau de la première croix rencontrée **2**.

Poursuivre la montée jusqu'à la chapelle **3**.

Redescendre par le chemin qui se trouve

à l'opposé. Arriver sur les rives de l'Oule, au niveau des tables de pique-nique. Continuer à gauche puis traverser le pont et la route départementale (**attention à la circulation!**) pour revenir sur la place devant l'Office de Tourisme. Prendre à gauche et se rendre vers le lavoir **4**.

Prendre la rue du Moulin. Passer la place Max Bantous. Se perdre dans les ruelles du village pour arriver devant l'église **5**.

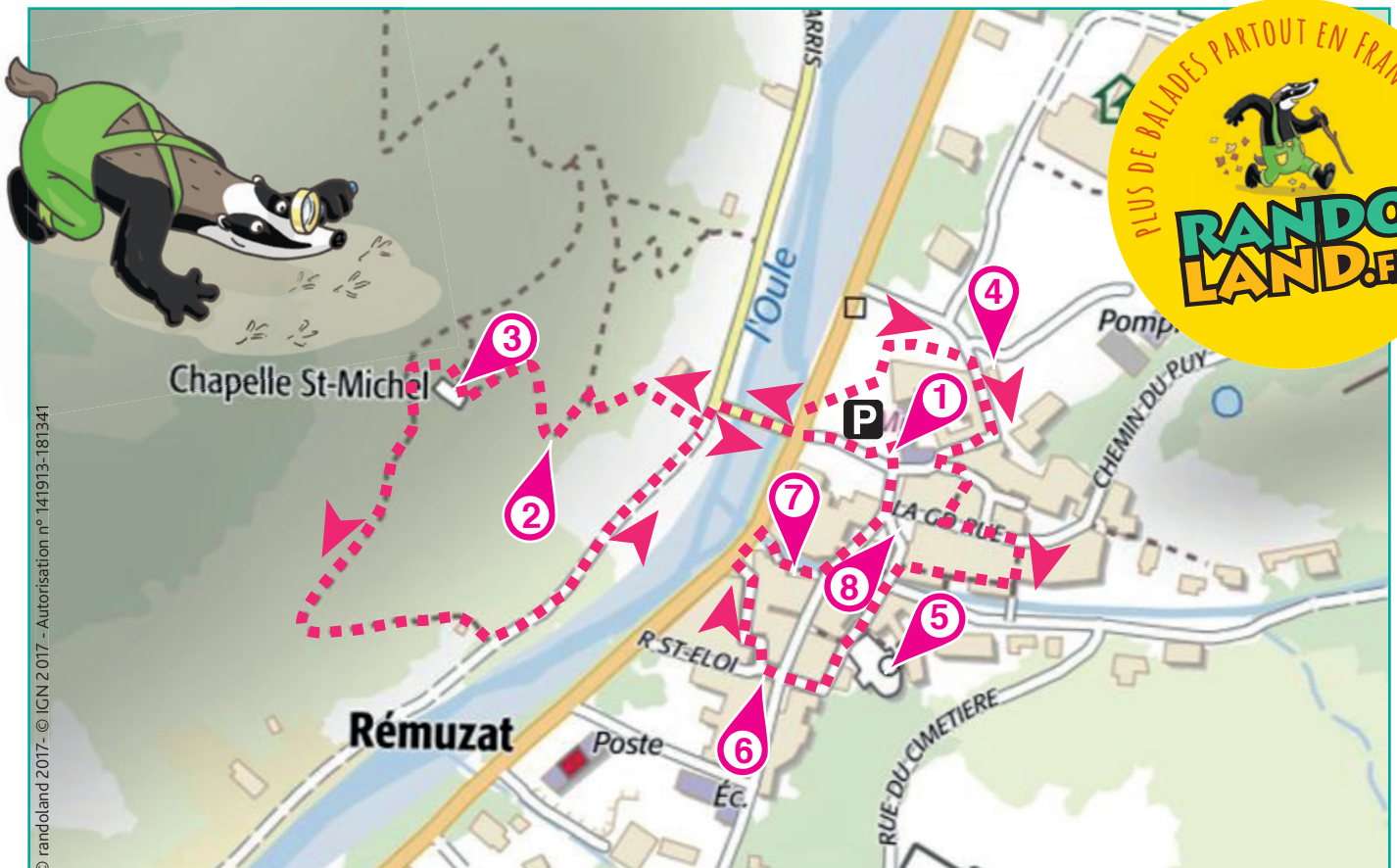
Poursuivre rue du Bourg puis tourner

à droite, place du Corps Mendiants. Remarquer sur la gauche le linteau de porte gravée **6**.

Emprunter le petit passage à droite qui rejoint la route départementale (**attention à la circulation!**). Prendre à droite pour traverser le pont et tourner de suite à droite. Remarquer un peu plus loin à droite, la plaque marquant la hauteur de l'inondation **7**.

Tourner à gauche, passer la place Léon et Georges Rolland **8**.

Revenir vers l'Office de Tourisme.





Rémuzat

L'Inspecteur Rando part en balade. Mais par où va-t-il passer ?

Pour découvrir le chemin emprunté, réponds aux questions de la page suivante.
Chaque réponse t'indiquera l'étape suivante de l'Inspecteur Rando dans le labyrinthe.

Attention, l'Inspecteur Rando ne doit jamais revenir sur ses pas !

Chaque fois qu'il trouvera une friandise sur sa route, colorie, dans l'ordre, un bonbon de la frise.

En fin de parcours, note dans la case réponse le nombre de bonbons trouvés.



1 2 3 4 5 6 7 8 9 10


Ta réponse



1 Les oiseaux

Combien d'oiseaux comme celui-ci sont représentés sur la façade de la maison des vautours ?

Tu vas découvrir la première étape de l'Inspecteur Rando.



2 La croix

Quelle photo a été prise de l'emplacement où tu te trouves ?



3 La chapelle

Quel dessin est représenté au-dessus de la porte de la chapelle ?



4 Le lavoir

Quel groupe d'étiquettes te permet de recomposer le nom du personnage sur la plaque du lavoir ?



5 L'église

Quel nuage de chiffres te permet de recomposer une des deux dates figurant sur la plaque du mur de l'église ?



6 Le linteau sculpté

Quel dessin correspond à celui gravé sur le linteau de la porte ?



7 L'inondation

Quelle feuille comporte la même date que celle inscrite sur la plaque de l'inondation ?



8 La place Léon et Georges Rolland

Quel pinceau a pu servir à peindre le blason de Rémuzat visible sur la plaque de la place ?



1-9 ans



Rémuzat

ÉNIGME

Deux jeunes vautours d'une espèce rare ont été récemment réintroduits dans le massif des Baronnies.

Ils sont équipés de balises GPS, ce qui permet de les localiser et de suivre leurs déplacements.

La femelle s'appelle Girun.

Mais comment s'appelle le mâle ?

Pars vite à la recherche des indices qui te permettront de retrouver le nom de ce rapace réintroduit en 2016.

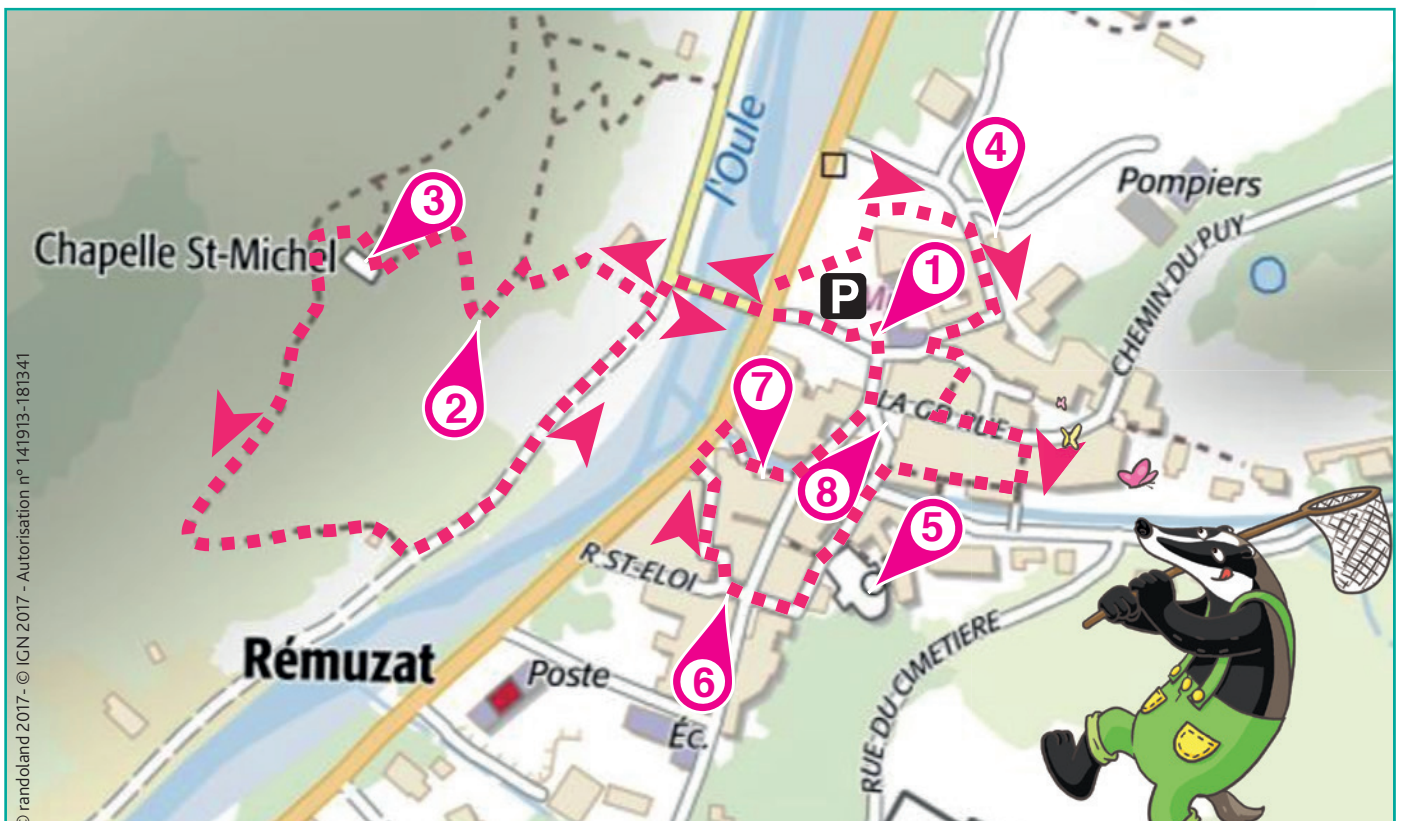


© Julien Traversier de Vautours en Baronnies

Tu disposes du plan ci-dessous.

À l'emplacement des pastilles numérotées, lis les indications qui te permettront de résoudre l'énigme principale.

À la fin de ta balade, rends-toi à l'Office de Tourisme ou sur le site randoland.fr pour vérifier ta réponse.






Pour toutes les activités de cette fiche, reporte dans la grille de bas de page les réponses trouvées en face des nombres correspondants.

1 Les oiseaux

Une case de la photo de la façade a été modifiée.



Reporte dans la grille la lettre de la case modifiée.

2 La croix

Quel enfant présente une photo prise de l'endroit où tu te trouves ?



Dora

Lili

Lulu

Inscris dans ta grille le prénom de celui qui a raison.

3 La chapelle

Le panneau de l'église St-Michel va te servir à retrouver le nom du rocher, barre rocheuse unique par sa forme, qui veille sur le village et l'abrite du vent.

Retrouve ses lettres grâce au code suivant :

2-4 ; 7-9 ; 5-4 ; 4-3 ; 9-4

où le chiffre en bleu t'indique le numéro de la ligne et le chiffre en vert la position de la lettre dans la ligne.

Inscris ta réponse dans la grille.

4 Le lavoir

Repère la plaque rendant hommage à un personnage. Additionne entre eux tous les chiffres qui composent sa date de décès.

Ex. : 2017 = 2 + 0 + 1 + 7 = DIX

Reporte ta réponse, en lettres, dans la grille.

5 L'église

Retrouve, sur une plaque, la fonction à Rémuzat de l'abbé Van Damme.

Note ta réponse dans la grille mais en écrivant ce mot à l'envers.

Ex. : MAIRE → ERIAM

6 Le linteau gravé

À quel animal te fait penser le dessin gravé sur le linteau ?

Reporte le nom du petit de cet animal dans la grille.

UN PEU D'AIDE

Les animaux et leurs petits

CHAT → CHATON

CHIEN → CHIOT

CHEVAL → POULAIN

SANGLIER → MARCASSIN

7 L'inondation


Repère le mois où a lieu l'inondation.

Reporte dans la grille le mois qui le suit immédiatement dans le calendrier.

8 La place Léon et Georges Rolland

Retrouve sur un des panneaux de balisage des sentiers, l'altitude de Rémuzat.

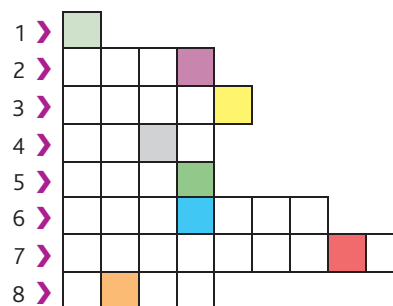
Dans quelle chenille peux-tu logiquement inscrire ta réponse ?



Inscris son nom dans la grille.

Grille réponse

Circuit n° 2626402M



Remets en ordre les caractères des cases colorées pour retrouver le nom du rapace recherché.

Réponse :



Rémuzat

ÉNIGME

« Vautours en Baronnies » est une association loi 1901, créée en 1992 dont les buts sont :

- le retour et le suivi des populations de vautours sur le Massif des Baronnies,
- l'information et l'animation auprès du grand public et des scolaires,
- la gestion de la « Maison des Vautours »,
- la gestion du service « équarrissage » auprès des éleveurs de la région.

En 2016, une espèce de rapaces a été réintroduite dans le massif des Baronnies.

Parviendras-tu à retrouver son nom dans la liste ci-dessous.



© Julien Traversier de Vautours en Baronnies

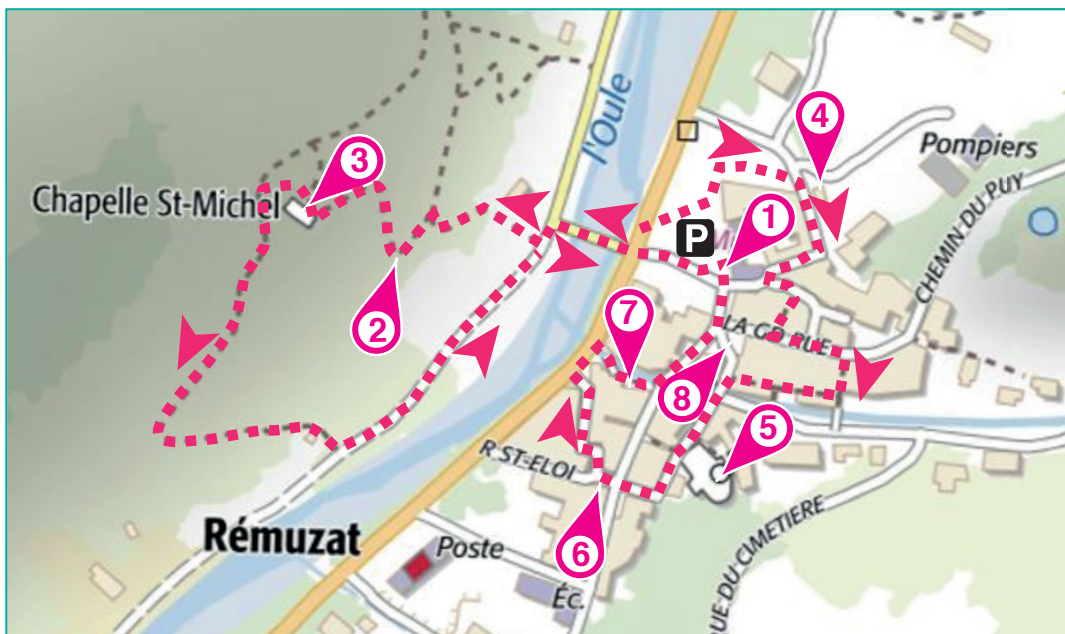
LES ESPÈCES DE RAPACES

- ▶ **Aigle royal** - Taille 65 à 100 cm ; envergure 180 à 235 cm ; poids 4 à 6 kg ; longévité jusqu'à 25 ans
- ▶ **Busard Saint-Martin** - Taille 44 à 52 cm ; envergure 99 à 121 cm ; poids 0,3 à 0,5 kg ; longévité jusqu'à 15 ans
- ▶ **Buse variable** - Taille 46 à 53 cm ; envergure 113 à 137 cm ; poids 0,5 à 1,2 kg ; longévité jusqu'à 20 ans
- ▶ **Grand-duc d'Europe** - Taille 62 à 75 cm ; envergure 160 à 188 cm ; poids 2 à 3,2 kg ; longévité jusqu'à 20 ans
- ▶ **Gypaète barbu** - Taille 100 à 115 cm ; envergure 280 à 290 cm ; poids 5 à 7 kg ; longévité jusqu'à 25 ans
- ▶ **Milan royal** - Taille 59 à 66 cm ; envergure 145 à 165 cm ; poids 0,8 à 1,3 kg ; longévité jusqu'à 26 ans
- ▶ **Vautour Fauve** - Taille 95 à 110 cm ; envergure 255 à 280 cm ; poids 7 à 10 kg ; longévité jusqu'à 40 ans
- ▶ **Vautour moine** - Taille 100 à 115 cm ; envergure 250 à 295 cm ; poids 7 à 10 kg ; longévité jusqu'à 50 ans
- ▶ **Vautour percnoptère** - Taille 55 à 65 cm ; envergure 155 à 170 cm ; poids 2 kg ; longévité inconnue

Tu disposes du plan ci-dessous.

À l'emplacement des pastilles numérotées, lis les indications qui te permettront de résoudre l'énigme principale.

À la fin de ta balade, rends-toi à l'Office de Tourisme ou sur le site randoland.fr pour vérifier ta réponse.





Lors du passage devant chacun des indices lis attentivement les indications fournies. Elles te permettront de résoudre l'énigme posée au verso de cette page.

1 Les oiseaux

Compte le nombre d'oiseaux représentés sur la façade.

Dans quel intervalle pourrais-tu inscrire ton résultat ?

A. $15 < \dots < 24$

B. $5 < \dots < 14$

G. $25 < \dots < 35$

La lettre correspondant au bon intervalle est l'initiale d'une des espèces de rapaces. Mais ce n'est pas celle recherchée. Raye-la de ta liste.

2 La croix



Elena

Bastien

Yassine

Elena mesure 1,55 m, Bastien 1,70 m et Yassine 1,85 m.

L'envergure maximale d'une espèce de la liste correspond à la taille du photographe qui ne présente pas une photo prise de l'endroit où tu te trouves.

Ce n'est pas l'espèce recherchée. Tu peux donc l'éliminer de ta liste.

3 La chapelle

Observe la gravure au-dessus de la porte de la chapelle. On peut y reconnaître deux lettres entrelacées. Ces deux lettres sont les initiales partielles d'une des espèces de ta liste. Mais ce n'est toujours pas l'espèce de rapace réintroduite en 2016. Raye-la de ta liste.

4 Le lavoir

Repère la plaque rendant hommage à un personnage. Elle va te servir à retrouver le nom d'une espèce de rapace, mais qui n'est malheureusement pas celle recherchée.

Retrouve son nom grâce au code suivant :

2-6; 3-11; 3-15; 1-7; 4-3

où le chiffre en bleu t'indique le numéro de la ligne et le chiffre en vert la position de la lettre dans la ligne.

5 L'église

Calcule l'âge de l'abbé Van Damme à sa mort.

L'envergure de l'espèce réintroduite est plus grande que le nombre trouvé.

Tu peux rayer les autres de ta liste.

6 Le linteau sculpté

À quel animal te fait penser le dessin gravé sur le linteau ?

Sachant que les voyelles valent + 4 et les consonnes + 3, calcule la valeur du nom de la femelle de cet animal.

L'espèce dont la longévité est égale au nombre trouvé n'est pas celle qui a été réintroduite en 2016. Barre-la de ta liste.

7 L'inondation

La plaque comporte une faute d'orthographe. Il y a une lettre en trop.

Cette lettre n'est pas présente dans le nom de l'espèce recherchée.

8 La place Léon et Georges Rolland

Recherche le panneau de balisage des sentiers indiquant la direction de Montrond.

Si les randonneurs sont partis à 9 h 30, lequel a respecté le temps indiqué sur le panneau ?

Son nom ne rime pas avec l'espèce recherchée.



Pompette



Chauve



Scorbut



Circuit n° 2626402G

Tu devrais avoir retrouvé le nom de l'espèce de rapace réintroduite en 2016!

Ta réponse: